



به نام خدای دانا و مهربان
دبستان غیردولتی پسرانه نورفلق

آزمون جامع ریاضی

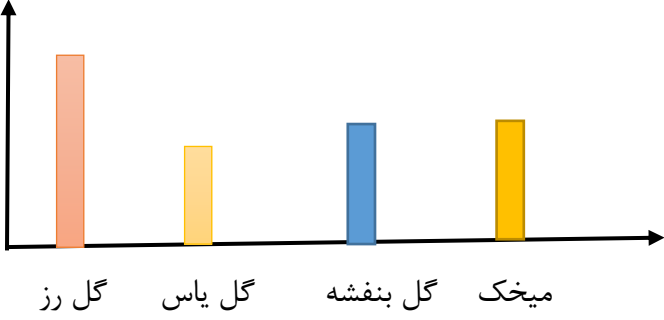
نام و نام خانوادگی:

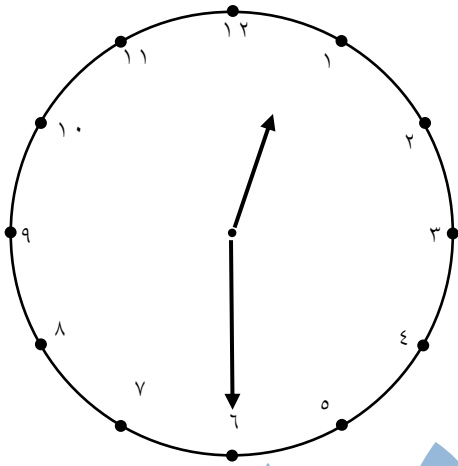
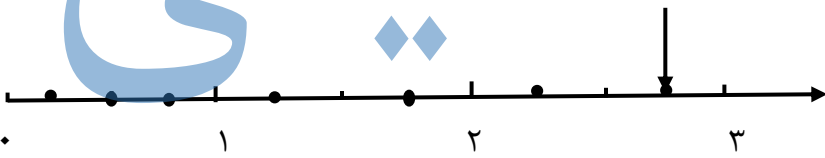
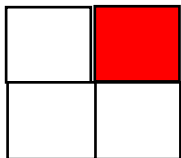

مدت آزمون : ۴۵ دقیقه

۱۴۰۱/۱/۳۱

پایه دوم

<p>۱ الگوهای زیر را ادامه دهید.</p> <p>..... و و و ۵۸۰ و ۵۷۰ و ۵۶۰</p> <p>..... و و و و ۱۰ و ۶ و ۳ و ۱</p>	<p>۱</p>				
<p>۲ در یک روستا ۸۴۲ مرغ و خروس وجود دارد. اگر ۵۲۴ تا از آن ها مرغ باشد ، در این روستا چند خروس وجود دارد؟</p>	<p>۲</p>				
<p>۳ مقایسه کنید. علامت < = > بگذارید.</p> <p> $۴۰۰ + ۵۰ + ۳۰۰ + ۲۰ + ۷ + ۱۰ + ۴$ <input type="radio"/> $۱۰۰ + ۲۰ + ۴۰۰ + ۵۰ + ۷ + ۹$ ۶۱ <input type="radio"/> ۶۰۱ ۸۰۲ <input type="radio"/> ۳۸۶ </p>	<p>۳</p>				
<p>۴ جمع و تفریق های زیر را به روش کوتاه محاسبه کنید .</p> <table style="width: 100%; text-align: center;"> <tr> <td>$\begin{array}{r} ۵۵۵ \\ + ۲۸۵ \\ \hline \end{array}$</td> <td>$\begin{array}{r} ۳۶۱ \\ + ۴۰۸ \\ \hline \end{array}$</td> <td>$\begin{array}{r} ۶۷۴ \\ - ۳۱۹ \\ \hline \end{array}$</td> <td>$\begin{array}{r} ۷۰۲ \\ - ۲۴۱ \\ \hline \end{array}$</td> </tr> </table>	$\begin{array}{r} ۵۵۵ \\ + ۲۸۵ \\ \hline \end{array}$	$\begin{array}{r} ۳۶۱ \\ + ۴۰۸ \\ \hline \end{array}$	$\begin{array}{r} ۶۷۴ \\ - ۳۱۹ \\ \hline \end{array}$	$\begin{array}{r} ۷۰۲ \\ - ۲۴۱ \\ \hline \end{array}$	<p>۴</p>
$\begin{array}{r} ۵۵۵ \\ + ۲۸۵ \\ \hline \end{array}$	$\begin{array}{r} ۳۶۱ \\ + ۴۰۸ \\ \hline \end{array}$	$\begin{array}{r} ۶۷۴ \\ - ۳۱۹ \\ \hline \end{array}$	$\begin{array}{r} ۷۰۲ \\ - ۲۴۱ \\ \hline \end{array}$		
<p>۵ اعداد را در جای مخصوص به خود بنویس.</p> <p>۹۲- ۳۸- ۱۴- ۱۷- ۳- ۱۵- ۲۶- ۲۳- ۵۰- ۱۹- ۴۹</p> <div style="display: flex; justify-content: space-around; align-items: center;"> <div style="border: 1px solid black; border-radius: 50%; padding: 10px; width: 30%;"> <p>فرد:</p> </div> <div style="border: 1px solid black; border-radius: 50%; padding: 10px; width: 30%;"> <p>زوج:</p> </div> </div>	<p>۵</p>				

<p>۶ در یک جعبه مداد رنگی ، ۹ مداد سبز و ۳ مداد قرمز است. مداد از مداد سبز است. مداد از مداد قرمز است.</p>	۶
<p>۷ شکل ها را دسته بندی کنید و در جاهای خالی عدد مناسب بنویسید.</p>  <p>..... تا تایی ، می شود</p> <p>..... تا تایی ، می شود</p>	۷
<p>۸ به مناسبت عید نوروز ، کوچه را با ۱۹۴ لامپ زرد و قرمز چراغانی کرده اند. اگر ۵۶ لامپ قرمز باشد چند لامپ زرد است؟</p> <p style="text-align: center; font-size: 2em; color: blue;">جزوه سبزی</p>	۸
<p>۹ قد زهرا ۱۵۲ سانتی متر وقد مینا ۱۴۹ سانتی متر است. قد کدام یک بلندتر است؟ چند سانتی متر؟</p> <p> <input type="radio"/> الف) قد مینا - ۳ سانتی متر <input type="radio"/> ب) قد زهرا - ۳ سانتی متر <input type="radio"/> ج) قد زهرا - ۴ سانتی متر <input type="radio"/> د) قد مینا - ۵ سانتی متر </p>	۹
<p>۱۰ با توجه به نمودار، به سوالات پاسخ مناسب دهید.</p>  <p> کدام گل از همه بیشتر کاشته شده است؟..... کدام گل از همه کم تر کاشته شده است؟..... کدام گل ها به اندازه ی هم کاشته شده اند؟..... </p>	۱۰

<p>۱۱ - دو عدد یک رقمی زوج بنویس . - سه عدد دو رقمی فرد بنویسید.</p>	<p>۱۱</p>
<p>۱۲ اگر عقربه بزرگ ساعت زیر ۱۵ دقیقه به جلو حرکت کند، مقدار حرکت عقربه بزرگ را رنگ کنید و زمان ساعت جدید را بنویسید.</p> 	<p>۱۲</p>
<p>۱۳ با توجه به محور، جمله را کامل کنید.</p>  <p>نقطه ی مشخص شده واحد کامل و قسمت از قسمت مساوی است.</p>	<p>۱۳</p>
<p>۱۴ کسر مربوط به هر شکل را بنویس.</p>   <p>..... قسمت از قسمت مساوی رنگی است قسمت از قسمت مساوی رنگی است</p>	<p>۱۴</p>

پیروز و سربلند باشید